

## PYTANIA PRZYGOTOWUJĄCYCH DO EGZAMINU NA PATENT STERNIKA MOTOROWODNEGO

**001. W przypadku urazu kończyny górnej z prawdopodobnym złamaniem przedramienia:**

- A załóżysz jałowy opatrunek
- B usztywnisz dwa sąsiednie stawy**
- C wezwiesz tytko pomoc medyczną

**002. Intensywnie wypływająca jasna krew z rany to krwawienie:**

- A żyłne
- B tętnicze**
- C z naczyń włosowatych

**003. Przy złamanej kości podudzia unieruchomisz:**

- A stawy kolanowy i skokowy**
- B tylko staw kolanowy
- C staw kolanowy i biodrowy

**004. Przywróciłeś ratowanemu krążenie i oddychanie, ale nadal jest nieprzytomny, w oczekiwaniu na służby medyczne:**

- A ułóżysz go w pozycji bezpiecznej**
- B połóżysz go na wznak
- C ułóżysz go w pozycji półsiedzącej

**005. Celowe wejście na mieliznę brzegową w celu ratowania życia załogi to:**

- A sztauowanie
- B sztrandowanie**
- C sztormowanie

**006. Gdy załogant wypadł z jachtu motorowego z prawej burty należy:**

- A natychmiast skrócić w prawo**
- B natychmiast skrócić w lewo
- C natychmiast dać całą wstecz

**007. W miarę obniżania się temperatury wody czas przeżycia człowieka w wodzie:**

- A maleje**
- B wydłuża się
- C pozostaje bez zmian

**008. Osobę wyjętą po dłuższym czasie z zimnej wody rozgrzewamy:**

- A rozcierając jej dłonie i stopy oraz podając 25 g czystego alkoholu
- B nakazując jej się szybko poruszać
- C przebierając ją w suche ubrania i podając ciepłą, słodką herbatę - jeśli osoba jest przytomna**

**009. W przypadku oparzenia należy przede wszystkim:**

- A jak najszybciej schłodzić miejsce oparzone wodą, przez długi okres czasu**
- B posmarować oparzone miejsca tłuszczem
- C przemyć miejsce oparzone spirytusem

**010. Określenie kierunku w górę na głównym szlaku Wielkich Jezior Mazurskich oznacza ruch w kierunku:**

- A miejscowości Pisz**
- B miejscowość Węgorzewo
- C miejscowości Giżycko

**011. Flauta - sztil, to określenie:**

- A fali przybojowej
- B mgły porannej
- C zupełnego braku wiatru**

**012. Chmura sygnalizująca silne wiatry z gwałtownymi szkwałami to:**

- A altocumulus
- B cumulonimbus**
- C altostratus

**013. Podczas bryzy daytimej wiatr wieje:**

- A wzdłuż brzegu ze wschodu
- B z morza na ląd**
- C z lądu na morze

**014. W niżu najniższe ciśnienie panuje:**

- A w centrum niżu**
- B na obrzeżach niżu
- C W niżu nie ma różnic ciśnienia

**015. W wyżu najwyższe ciśnienie panuje:**

- A na obrzeżach wyżu
- B w centrum wyżu**
- C w wyżu nie ma różnic ciśnienia

**016. Wiatr o prędkości 50 węzłów, ile to stopni w skali Beauforta:**

- A 8 (sztorm)
- B 9 (silny sztorm)
- C 10 (bardzo silny sztorm)**

**017. Chmura powstaje dzięki:**

- A kondensacji pary wodnej**
- B poziomemu ruchowi powietrza
- C różnicy ciśnień

**018. Mila morska to:**

- A 1752m
- B 1852m**
- C 1952m

**019. Log to urządzenie służące do pomiaru:**

- A siły wiatru
- B prędkości jachtu**
- C głębokości wody

**020. Co to za znak?**

- A zakaz cumowania do brzegu**
- B zakaz mijania i wyprzedzania
- C zakaz kotwiczenia



**021. Co to za znak?**

- A zakaz wytwarzania fali
- B zakaz zawracania**
- C zakaz ruchu statków




**022. Co to za znak?**

- A zakaz wytwarzania fali
- B zakaz ruchu statków o napędzie mechanicznym**
- C zakaz rozwijania dużych prędkości



**023. Co to za znak?**

- A nakaz zachowania szczególnej ostrożności
- B nakaz zatrzymania statku
- C nakaz nadania sygnału dźwiękowego**



**024. Co to za znak?**

- A prom na uwięzi
- B prom przemieszczający się swobodnie**
- C port



**025. Co to za znak?**

- A zezwolenie na ruch skuterów wodnych**
- B zezwolenie na uprawianie narciarstwa wodnego
- C zezwolenie na ruch statków żaglowych



**026. Co to za znak?**

- A połączenie z drogą uznaną za główną drogę wodną
- B połączenie z drogą uważaną za boczną drogę wodną**
- C koniec obowiązywania zakazu, nakazu, ograniczenia



**027. Co to za znak?**

- A prawa granica szlaku żeglownego**
- B lewa granica szlaku żeglownego
- C zakaz wpływania



**028. Co to za znak?**

- A prawa granica szlaku żeglownego
- B lewa granica szlaku żeglownego**
- C rozwidlenie szlaku żeglownego



**029. Mały statek to statek, którego długość jest mniejsza niż .... metrów oraz może przewozić nie więcej niż .... pasażerów.**

- A 15 m / 10 pasażerów
- B 15 m / 12 pasażerów
- C 20 m / 12 pasażerów**

**030. Statek który utracił manewrowość pokazuje w dzień dodatkowo:**

- A jedną czarną kulę
- B dwie czarne kule**
- C trzy czarne kule

- 031. Mały statek o długości mniejszej niż 7 m i płynący z prędkością mniejszą niż 10 km/h w nocy pokazuje:**
- A światło białe widoczne ze wszystkich stron
  - B tylko światła burtowe
  - C światła burtowe i światło rufowe
- 032. Statek pokazujący w dzień umieszczone pionowo: dwie czarne kule, a między nimi czarny podwójny stożek, to statek:**
- A zajęty połowem
  - B który utracił manewrowość
  - C o ograniczonej zdolności manewrowej
- 033. Słyszysz we mgle nieprzerwane bicie w dzwon przez ok.-5 sekund, w odstępach ok. 1 min. Oznacza to statek:**
- A na mieliźnie
  - B na kotwicy
  - C holowany
- 034. Widzisz w nocy statek niosący dodatkowo dwa światła: czerwone nad białym. Jest to statek:**
- A zajęty połowem
  - B pełniący służbę-pilotową
  - C na mieliźnie
- 035. Gdzie nosi banderę jacht płynący na silniku:**
- A na maszcie
  - B na flagsztoku
  - C na relingu
- 036. Patent sternika motorowodnego uzyskuje osoba, która ukończyła:**
- A 12. rok życia
  - B 14. rok życia
  - C 16. rok życia
- 037. Jacht płynący na żaglach i na silniku jednocześnie traktowany jest jako:**
- A statek o napędzie mechanicznym
  - B statek żaglowy
  - C przepisy nie określają jego kwalifikacji
- 038. Jeden krótki dźwięk • nadany przez statek oznacza:**
- A zmieniam mój kurs w lewo
  - B zmieniam mój kurs w prawo
  - C uwaga
- 039. Dwa krótkie dźwięki •• nadane przez statek oznaczają:**
- A zmieniam mój kurs w lewo
  - B zmieniam mój kurs w prawo
  - C uwaga
- 040. Trzy krótkie dźwięki ••• nadane przez statek oznaczają:**
- A nie mogę manewrować
  - B moje maszyny pracują wstecz
  - C uwaga

**041. Cztery krótkie dźwięki •••• nadane przez statek oznaczają:**

- A uwaga
- B człówek za burtą
- C nie mogę manewrować**

**042. Statek nadał sygnał • – •• oznacza on:**

- A nie mogę manewrować:
- B mam nurka podwodą
- C zatrzymajcie natychmiast wasz statek**

**043. Sektor świecenia światła masztowego wynosi:**

- A 205°
- B 215°
- C 225°**

**044. Sektor świecenia światła burtowego wynosi:**

- A 112,5°**
- B 115°
- C 117,5°

**045. Która grupa sygnałów to sygnał S.O.S.?**

- A ••• – – – •••**
- B – – – ••• – – –
- C ••• – – •••

**046. Dwa jachty motorowe płyną kursami przecinającymi się, pierwszeństwo ma jacht:**

- A znajdujący się z prawej strony drugiego jachtu**
- B znajdujący się z lewej strony drugiego jachtu
- C mniejszy

**047. Na drodze wodnej widzisz w nocy statek pokazujący na prawej burcie czerwone światło, a na lewej burcie dwa światła zielone w pionie. Z której strony przepłyniesz:**

- A z jego prawej burty
- B z jego lewej burty**
- C zatrzymam się do kontroli

**048. Minimalna ilość środków ratunkowych, jaka wg przepisów musi znajdować się na zarejestrowanym statku to:**

- A tyle ile osób znajduje się na pokładzie statku
- B zgodnie z wpisem w dokumencie rejestracyjnym statku**
- C tyle ile uzna za stosowne kapitan statku

**049. Koło ratunkowe to środek ratunkowy przeznaczony dla:**

- A Jednej osoby
- B Dwóch osób**
- C Czterech osób

**050. Główne parametry charakteryzujące śrubę to:**

- A skok śruby (H), średnica (D)**
- B posuw śruby
- C kąt natarcia łopat

**051. Gdy uruchomisz silnik, co najpierw sprawdzisz:**

- A czy silnik wchodzi na obroty
- B czy działa chłodzenie silnika**
- C czy działa bieg wsteczny

**052. Manetka silnika stacjonarnego ustawiona jest przy rozruchu:**

- A na biegu wstecznym
- B na biegu jałowym**
- C nie ma to żadnego znaczenia

**053. Przekładnia typu „S” może być obracana:**

- A w płaszczyźnie poziomej lub pionowej
- B tylko w płaszczyźnie poziomej**
- C tylko w płaszczyźnie pionowej

**054. Zrywka w sytuacji awaryjnej:**

- A zabezpiecza śrubę przed urwaniem
- B chroni silnik przed przegrzaniem i zatarciem
- C wyłącza silnik**

**055. Manetka to:**

- A linka służąca do uruchomienia silnika
- B dźwignia służąca do sterowanie obrotami silnika**
- C plastikowa kształtka pozwalająca na awaryjne wyłączenie silnika

**056. Co to za znak?**

- A zakaz mijania
- B zakaz mijania i wyprzedzania**
- C zakaz zawracania



**057. Echosonda to urządzenie służące do pomiaru:**

- A siły wiatru
- B przebytej drogi
- C głębokości**

**058. Z kompasu odczytać można:**

- A kurs jakim płynie jacht**
- B zafalowanie akwenu
- C wartość i kierunek prądów pływowych

**059. Uchwyt na nadbudówce jachtu to:**

- A kokpit
- B handreling**
- C odbojnica

**060. Wzmocnienie ochronne burty w górnej jej części to:**

- A listwa odbojowa**
- B dennik
- C reling

**061. Prawidłowa kolejność czynności przy wyłączeniu kuchenki gazowej to:**

- A wyłączamy palnik, następnie zamykamy zawór na butli
- B wyłączamy palnik, po minucie zamykamy zawór na butli
- C zamykamy zawór na butli i po zgaśnięciu płomienia wyłączamy palnik**

**062. Najniższa przestrzeń kadłuba gdzie zbiera się woda to:**

- A gródź
- B zęza**
- C dennik

**063. Napięcie znamionowe u większości akumulatorów łodziowych wynosi:**

- A 24V
- B 12V**
- C 18V

**064. Szarpanka to:**

- A linka za pomocą której możemy uruchomić silnik**
- B sytuacja w której silnik nierówno pracuje
- C specjalny tryb pracy silnika do szybkiego rozruchu

**065. System IALA jest to:**

- A międzynarodowy kod sygnałowy
- B system oznakowania nawigacyjnego**
- C system ostrzeżeń meteorologicznych

**066. Płynąc w dół rzeki prawa strona szlaku znajduje się:**

- A z prawej burty statku**
- B z lewej burty statku
- C po stronie określonej na znakach nawigacyjnych

**067. Farwater jest to:**

- A próg podwodny spiętrzający wodę
- B szlak żeglowny**
- C kanał spławny

**068. Co oznacza jeden żółty romb na moście:**

- A zalecenie przejścia w jednym kierunku
- B zalecenie przejścia w obu kierunkach**
- C zakaz przejścia

**069. Płynąc na zachód jacht napotkał na swojej drodze tykę posiadającą znak szczytowy w postaci dwóch czarnych stożków z wierzchołkami skierowanymi w dół, którą burtą powinien ją ominąć:**

- A prawą**
- B lewą
- C to zależy od ustalonego kierunku szlaku żeglownego na tym akwenie

**070. Płyniesz rzeką z prądem, którą burtą powinieneś minąć tykę:**

- A lewą**
- B prawą
- C dowolną

**071. Co to za znak?**

- A zachodnia pława kardynalna
- B wschodnia pława kardynalna
- C północna pława kardynalna



**072. Co to za znak?**

- A południowa pława kardynalna
- B północna pława kardynalna
- C zachodnia pława kardynalna



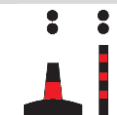
**073. Co to za znak?**

- A południowa pława kardynalna
- B wschodnia pława kardynalna
- C północna pława kardynalna



**074. Co to za znak?**

- A znak odosobnionego niebezpieczeństwa
- B znak specjalny
- C znak pomiarowy



**075. Wymiary znaków wzrokowej sygnalizacji statków powinny zapewniać ich dobrą widoczność. Średnica kuli powinna być większa niż:**

- A 0,5m
- B 0,6m
- C 0,3m

**076. Jeden krótki dźwięk • trwa:**

- A ok. 1 sekundy
- B ok. 2 sekundy
- C ok. 3 sekundy

**077. Statek stojący na kotwicy powinien w nocy pokazywać światło w kolorze:**

- A niebieskim
- B białym
- C żółtym

**078. Bieguny akumulatora to:**

- A dodatni i ujemny
- B faza i zero
- C masa i dodatni

**079. Klemy instalacji elektrycznej jachtu podłączamy do akumulatora w sposób następujący:**

- A „minus do masy, plus do obudowy”
- B „plus do minusa, minus do plusa”
- C „plus do plusa, minus do minusa”

**080. W jaki sposób odłączysz akumulator od instalacji jachtowej podczas pracy silnika:**

- A najpierw biegun dodatni
- B najpierw biegun ujemny
- C najpierw odstawię (wyłączę) silnik



**081. Widzisz w nocy statek niosący dodatkowo trzy czerwone światła w pionie. Jest to:**

- A statek trałujący
- B statek holujący
- C statek ograniczony swym zanurzeniem

**082. Co to za znak?**

- A połączenie z drogą uznaną za główną drogę wodną
- B połączenie z drogą uznaną za boczną drogę wodną
- C **koniec obowiązywania zakazu, nakazu, ograniczenia**



**083. Co to za znak?**

- A stacja ratownictwa
- B **miejsce w którym można korzystać z telefonu**
- C punkt informacyjny



**084. Co to za znak?**

- A rejon ćwiczeń wojskowych
- B **granice akwenu zamkniętego dla żeglugi**
- C granicę strefy rybołówstwa



**085. Największe jezioro w Polsce to:**

- A **Śniardwy**
- B Mamry
- C Dąbie

**086. Przy przejściu przez służę wydarzył się wypadek żeglugowy. Powiadomisz o tym:**

- A policję
- B **obsługę służy**
- C WOPR

**087. Płynąc na południe jacht napotkał na swojej drodze tykę posiadającą znak szczytowy w postaci dwóch czarnych stożków z wierzchołkami skierowanymi do siebie, którą burtą powinien ją ominąć:**

- A prawą
- B **lewą**
- C dowolną burtą

**088. Jacht płynąc rzeką pod prąd napotkał czerwoną pławę walcową. Którą granicę szlaku żeglownego ona wyznacza i którą burtą powinien ją ominąć:**


- A wyznacza prawą granicę szlaku, powinien ją ominąć prawą burtą
- B **wyznacza prawą granicę szlaku, powinien ją ominąć lewą burtą**
- C wyznacza lewą granicę szlaku, powinien ją ominąć prawą burtą

**089. Wymiary znaków wzrokowej sygnalizacji statków powinny zapewniać ich dobrą widoczność. Wysokość stożka jest większa niż:**

- A **0,6m**
- B 0,3m
- C 0,9m

**090. Przy mijaniu na rzece statki idące w górę:**

- A **ustępują statkom idącym w dół**
- B mają pierwszeństwo przed statkami idącymi w dół
- C mają zakaz mijania

- 091. Obowiązek rejestracji śródlądowych jachtów o napędzie mechanicznym dotyczy jachtów z silnikami o mocy przekraczającej:**
- A 5 KW
  - B 10 KW
  - C 15 KW**
- 092. Przy śrubie lewoskrętnej pracującej wstecz rufa jest zarzucana:**
- A w lewą stronę
  - B w prawą stronę**
  - C zarzucanie nie występuje
- 093. Wymiary znaków wzrokowej sygnalizacji statków powinny zapewniać ich dobrą widoczność. Średnica podstawy stożka powinna być większa niż:**
- A 0,3m
  - B 0,6m**
  - C 0,8m
- 094. Czy silnik dwusuwowy posiada miskę olejową:**
- A tak
  - B nie**
  - C zależy to od konstrukcji dwusuwu
- 095. Wymiary znaków wzrokowej sygnalizacji statków powinny zapewniać ich dobrą widoczność. Wysokość walca powinna być większa niż:**
- A 0,3m
  - B 0,8m**
  - C 0,9m
- 096. Budowa napędu strugo-wodnego charakteryzuje się:**
- A listwą konstrukcyjną zwaną strugą
  - B poprzeczną wręgą poszycia powodującą wejście jachtu w ślizg
  - C turbiną umieszczoną w tunelu w kadłubie powodującą wyrzut wody**
- 097. Paliwo służące do napędu silników dwusuwowych o zapłonie iskrowym to:**
- A czysta etylina
  - B olej napędowy
  - C benzyna z olejem silnikowym**
- 098. Co to za znak?**
- A rozgałęzienie szlaku żeglownego
  - B przeszkoda żegluga na środku drogi wodnej**
  - C wyjście ze szlaku wodnego
- 
- 099. Wymiary znaków wzrokowej sygnalizacji statków powinny zapewniać ich dobrą widoczność. Średnica podstawy walca powinna być większa niż:**
- A 0,6m
  - B 0,3m
  - C 0,5m**
- 100. GPS pokazuje:**
- A współrzędne geograficzne pozycji jachtu**
  - B głębokość
  - C kierunek i siłę wiatru

**101. Katamaran to jacht, który posiada:**

- A jeden kadłub
- B dwa kadłuby**
- C trzy kadłuby

**102. Drewniane podłogi używane na jachtach to:**

- A buchty
- B gretingi**
- C denniki

**103. Dziobowa część kadłuba to:**

- A kokpit
- B forpik**
- C achterpik

**104. Podstawowe liny służące do cumowania jachtu to:**

- A cumy i szpringi**
- B szpringi i lina kotwiczna
- C cumy i szoty

**105. Pompa zębowa to urządzenie służące do:**

- A pompowania komór wypornościowych jachtu
- B ułatwienia w sterowaniu jachtem ze sterem hydraulicznym
- C wypompowywania wody z zęzy**

**106. Rumpel służy do:**

- A awaryjnego wyłączania silnika
- B sterowania**
- C zmiany biegów

**107. Widzisz na pobliskim jachcie człowieka zataczającego kręgi ręcznikiem, oznacza to:**

- A nic nie oznacza
- B sygnał wzywania pomocy**
- C nie zbliżajcie się do nas

**108. Przerwa pomiędzy następującymi po sobie dźwiękami tego samego sygnału powinna wynosić:**

- A 2 sekundy
- B 1 sekundę, nie dotyczy „seria bardzo krótkich dźwięków”**
- C 0,25 sekundy

**109. Udrożnianie dróg oddechowych odbywa się poprzez:**

- A odchylenie głowy do tyłu i uniesienie żuchwy do góry**
- B ułożenie w pozycji bezpiecznej
- C ułożenie ratowanego na brzuchu

**110. W przypadku, gdy człowiek wypadł za burtę należy:**

- A skoczyć za nim w celu asekuracji
- B wzywać pomocy
- C rzucić koło ratunkowe i wykonać manewr „człowiek za burtą”**

**111. Gdy człowiek znajduje się w zimnej wodzie to:**

- A przyjmuje pozycję embrionalną „HELP”**
- B cały czas pływa starając się rozgrzać
- C rozbiera się z nadmiaru rzeczy

**112. Zobaczyłeś czerwoną pochodnię na łodzi:**

- A jest to znak wzywania pomocy**
- B ktoś się zabawia ogniem
- C nic to nie znaczy

**113. Czy kamizelka asekuracyjna, zapewnia odwrócenie człowieka w wodzie twarzą do góry:**

- A nie**
- B tak
- C wszystko zależy od wagi człowieka

**114. Pozycja „CLINCH”, osób znajdujących się w wodzie oznacza, że:**

- A osoba jest w pozycji embrionalnej
- B kilka osób jest razem ciasno objętych**
- C osoba obejmuje się ramionami

**115. Ostrzeżenie „Uwaga” w sygnalizacji warunków meteorologicznych na jeziorach sygnalizuje się z łądu przez pokazanie:**

- A żółtego, rytmicznego, migającego światła – ok. 40 błysków na minutę**
- B żółtego, migającego światła – ok. 90 błysków na minutę
- C żółtego światła świecącego bez przerwy

**116. Światło rufowe na statku ma kolor:**

- A biały**
- B czerwony
- C niebieski

**117. Czy osoba nieumiejąca pływać w czasie przebywania na statku powinna mieć założoną kamizelkę ratunkową lub środek asekuracyjny:**

- A tak**
- B nie
- C decyzja należy do kierownika statku

**118. Czy holowanie „banana” za jachtem o napędzie mechanicznym wymaga posiadania dodatkowych uprawnień poza patentem motorowodnym:**

- A tak**
- B nie
- C przepisy nie regulują

**119. Dwa statki o napędzie mechanicznym płyną kursami wprost na siebie, kto ma prawo drogi:**

- A jacht płynący szybciej
- B jacht większy
- C nikt nie ma prawa drogi, oba statki muszą skrócić w prawo**

**120. Statek żaglowy wyprzedza statek o napędzie mechanicznym, ustąpić powinien:**

- A statek o napędzie mechanicznym
- B przepisy nie regulują tej sytuacji
- C statek żaglowy**

**121. Kto oprócz policji może kontrolować dokumenty statku na wodach śródlądowych:**

- A inspektor z Urzędu Żeglugi Śródlądowej
- B bosman portu do którego przy pływa statek
- C ratownik WOPR w trakcie akcji ratunkowej

**122. O wypadku żeglugowym należy niezwłocznie powiadomić właściwy terytorialnie:**

- A Posterunek WOPR
- B **Urząd Żeglugi Śródlądowej**
- C Urząd Wojewódzki

**123. Ostrzeżenie „Niebezpieczeństwo” w sygnalizacji warunków meteorologicznych na jeziorach sygnalizuje się z lądu przez pokazanie:**

- A **żółtego, migającego światła – ok. 90 błysków na minutę**
- B żółtego, migającego światła – ok. 50 błysków na minutę
- C Żółtego migającego światła – ok. 40 błysków na minutę

**124. Chmury nie dające opadów to:**

- A **cirrus, cirrocumulus, altocumulus**
- B stratus, altostratus, nimbostratus
- C cumulonimbus, nimbostratus

**125. Na półkuli północnej wiatr wieje w niżu:**

- A zgodnie z ruchem wskazówek zegara
- B **przeciwnie do ruchu wskazówek zegara**
- C w niżu nie ma wiatrów

**126. Wiatr o prędkości 13 węzłów, ile to stopni w skali Beauforta:**

- A 2°
- B 3°
- C **4°**

**127. Jakiej chmurze towarzyszy kołnierz burzowy:**

- A nimbostratus
- B **cumulonimbus**
- C stratus

**128. Chmury piętra średniego to:**

- A **altostratus, altocumulus**
- B stratus, nimbostratus
- C stratocumulus, stratus

**129. Wiatr wieje:**

- A **od wyżu do niżu**
- B od niżu do wyżu
- C tylko w centrum niżu

**130. Bryza nocna powstaje w wyniku:**

- A **szybszego stygnięcia lądu niż wody**
- B oddziaływania księżyca
- C wolniejszego stygnięcia lądu niż wody

**131. Na statku używanym do uprawiania sportu lub rekreacji, kierownik statku powinien:**

- A obsługiwać urządzenie sterowe
- B nie musi obsługiwać urządzenia sterowego, musi być na pokładzie statku**
- C dopuszcza się, by przebywał na innej jednostce pływającej

**132. Mały statek, to statek, którego długość kadłuba nie przekracza 20m. Czy prom o długości 10m jest małym statkiem:**

- A tak
- B nie**
- C zależy, ile przewozi osób

**133. Co to za znak?**

- A zakaz wszelkiego wyprzedzania**
- B zakaz mijania i wyprzedzania
- C zakaz zawracania



**134. Co to za znak?**

- A zakaz kotwiczenia**
- B akwen zamknięty dla statków
- C zakaz cumowania



**135. Co to za znak?**

- A nakaz nieprzekraczania prędkości 12 km/h**
- B zakaz ruchu statków o napędzie mechanicznym
- C zakaz ruchu statków sportowych



**136. Co to za znak?**

- A nakaz ruchu prawą stroną
- B nakaz zachowania szczególnej ostrożności**
- C nakaz zatrzymania statku



**137. Co to za znak?**

- A jaz w bliskiej odległości**
- B prom na uwięzi
- C prom przemieszczający się swobodnie



**138. Co to za znak?**

- A miejsce poboru wody pitnej**
- B stocznia remontowa
- C port



**139. Co to za znak?**

- A połączenie z drogą uznaną za główną drogę wodną**
- B rozwidlenie szlaku żeglownego
- C połączenie z drogą uznaną za boczną drogę wodną



**140. Prom, to statek służący do:**

- A przewozu ładunków z nurtem rzeki
- B przewozu osób i ładunków w poprzek drogi wodnej**
- C przewozu osób między portami

**141. Określenie „zestaw” oznacza:**

- A statek holujący narciarza wodnego
- B statek holowany przez statek o napędzie żaglowym
- C zestaw holowany, pchany i sprzężony**

**142. Trimaran to jacht, który posiada**

- A jeden kadłub
- B trzy kadłuby**
- C dwa kadłuby

**143. Co to za znak?**

- A miejsce niebezpieczne przy lewym brzegu
- B miejsce niebezpieczne przy prawym brzegu**
- C bezpieczna burta pogłębiarki



**144. Co to za znak?**

- A przejście szlaku żeglownego od lewego do prawego brzegu**
- B przejście szlaku żeglownego od prawego do lewego brzegu
- C środek szlaku żeglownego



**145. Sektor świecenia światła rufowego wynosi:**

- A 112,5°
- B 125°
- C 135°**

**146. Przy mijaniu na rzece statki idące pod prąd:**

- A ustępują statkom idącym z prądem**
- B mają pierwszeństwo przed statkami idącymi z prądem
- C mają zakaz mijania

**147. Obowiązek posiadania uprawnień do prowadzenia jachtów o napędzie mechanicznym dotyczy jachtów z silnikami o mocy przekraczającej:**

- A 5 KW
- B 15 KW
- C 10 KW**

**148. Przy śrubie prawoskrętnej pracującej wstecz rufa jest zarzucana:**

- A w prawą stronę
- B w lewą stronę**
- C zarzucanie nie występuje

**149. Czy silnik czterosurowy posiada miskę olejową:**

- A nie
- B tak**
- C zależy to od konstrukcji dwusuwu

**150. Paliwo służące do napędu silników wysokoprężnych to:**

- A czysta etylina
- B benzyna z olejem silnikowym
- C olej napędowy**

**151. Seria krótkich dźwięków ●●●●● nadanych przez statek oznaczają:**

- A nie mogę manewrować
- B niebezpieczeństwo zderzenia**
- C uwaga

**152. Jeden długi dźwięk trwa:**

- A ok. 4 sekundy**
- B ok. 2 sekundy
- C ok. 3 sekundy

**153. Prom na uwięzi na postoju przy przystani nosi w nocy światło:**

- A białe nad niebieskim
- B zielone nad białym**
- C białe nad zielonym

**154. Jacht płynący na żaglach i na silniku jednocześnie, nosi w dzień dodatkowo:**

- A czarny stożek wierzchołkiem skierowany w dół**
- B czarną kulę umieszczoną na dziobie
- C czarny walec umieszczony na maszcie

**155. Prom przemieszczający się swobodnie z pierwszeństwem przejścia nosi w dzień:**

- A zieloną kulę nad białym walcem**
- B tylko światła burtowe
- C zieloną kulę nad białym stożkiem

**156. Powtarzana seria uderzeń w dzwon oznacza:**

- A statek na mieliźnie
- B wzywanie pomocy**
- C statek stojący na kotwicy

**157. Światło rufowe na statku holującym ma kolor:**

- A żółty**
- B czerwony
- C biały

**158. Kurs statku żaglowego i statku o napędzie mechanicznym przecinają się, ustąpić powinien:**

- A statek żaglowy
- B przepisy nie regulują tej sytuacji
- C statek o napędzie mechanicznym**

**159. Gdzie znajdziesz informacje w sprawie przepisów żeglugowych na śródlądowych drogach wodnych:**

- A w Dzienniku Ustaw numer 212 poz. 2072**
- B w Dzienniku Lokalnych przepisów
- C w Dzienniku Ustaw numer 72 poz. 747

**160. Co oznacza flaga:**

- A mam nurka pod wodą**
- B akwen o dużym zanieczyszczeniu
- C akwen zamknięty dla wędkarzy





**161. Seria długich dźwięków ----- nadanych przez statek oznacza:**


- A wezwanie pomocy
- B człowiek za burtą
- C zatrzymaj natychmiast statek

**162. Seria podwójnych krótkich dźwięków •• •• •• •• nadanych przez statek oznacza:**

- A człowiek za burtą
- B niebezpieczeństwo zderzenia
- C nie mogę manewrować

**163. Co to za znak?**

- A Zakaz ruchu wszelkich statków
- B **inne ograniczenia ruchu żeglownego - należy się z nimi zapoznać**
- C koniec obowiązywania zakazu, nakazu, ograniczenia



**164. Rufowa część kadłuba to:**

- A forpik
- B **achterpik**
- C fordek

**165. Co to za znak?**

- A **przejście szlaku żeglownego od lewego do prawego brzegu**
- B przejście szlaku żeglownego od prawego do lewego brzegu
- C szlak żeglowny przy lewym brzegu



**166. Co to za znak?**

- A **zezwolenie na postój na akwenu, którego szerokość w metrach jest podana na znaku, licząc od miejsca ustawienia znaku**
- B zezwolenie na postój ograniczony do 60 minut
- C zezwolenie na postój w odległości 60 metrów od znaku



**167. Co to za znak?**

- A prom przemieszczający się swobodnie
- B **prom na uwięzi**
- C miejsce cumowania promów




**168. Co to za znak?**

- A przejście szlaku żeglownego od lewego do prawego brzegu
- B **przejście szlaku żeglownego od prawego do lewego brzegu**
- C szlak żeglowny przy prawym brzegu



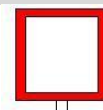
**169. Co to za znak?**

- A **prawa strona szlaku żeglownego**
- B zakaz wszelkiego przejścia
- C nakaz zatrzymania statku




**170. Co to za znak?**

- A lewa strona szlaku żeglownego
- B **prawa strona szlaku żeglownego**
- C nakaz zatrzymania statku



**171. Co to za znak?**

- A** nakaz trzymania się tej strony szlaku żeglownego, która leży z prawej burty
- B nakaz wyprzedzania prawą stroną
- C pierwszeństwo przejścia dla statków idących prawą stroną

**172. Co to za znak?**

- A** nakaz nieprzekraczania podanej na znaku prędkości w km/h
- B nakaz nieprzekraczania podanej na znaku prędkości w węzłach
- C ograniczenie szerokości przejścia

**173. Co to za znak?**


- A** miejsce postojowe zarezerwowane dla załadunku i wyładunku samochodów
- B myjnia samochodowa
- C stanowisko pracy dźwigu

**174. Długości jachtów podawane są między innymi w stopach. Jedna stopa to:**

- A 0,4038 metra
- B 0,3048 metra**
- C 1,8520 metra

**175. Co to za znak?**

- A** bezpieczna woda
- B znak odosobnionego niebezpieczeństwa
- C znak pomiarowy

**Sygnalizacja dźwiękowa statków**

SYMBOL SYGNAŁU	CHARAKTERYSTYKA DŹWIĘKÓW	ZNACZENIE SYGNAŁU
▬	Jeden długi dźwięk	„UWAGA”
●	Jeden krótki dźwięk	„Zmieniam mój kurs w prawo”
● ●	Dwa krótkie dźwięki	„Zmieniam mój kurs w lewo”
● ● ●	Trzy krótkie dźwięki	„Moje maszyny pracują wstecz”
● ● ● ●	Cztery krótkie dźwięki	„Nie mogę manewrować”
● ● ● ● ● ●	Seria bardzo krótkich dźwięków	„Niebezpieczeństwo zderzenia”
▬ ▬ ---	Powtarzane długie dźwięki	„Wzywam pomocy”
🔔 --- 🔔	Powtarzana seria uderzeń w dzwon	
● ▬ ● ●	Jeden krótki, jeden długi, dwa krótkie	„Zatrzymajcie natychmiast swój statek”
●● ●● ●● ●●	Seria podwójnych krótkich dźwięków	„Człowiek za burtą”
▬▬ ▬▬ ▬▬	Ciągły trzytonowy dźwięk	